

A

A

A

A

A

YGS

SOSYAL BİLİMLER TESTİ

Bu testte 40 soru vardır.
Yanıtlamaya istediğiniz sorudan başlayabilirsiniz.
Yanıtlarınızı Sosyal Bilimler Testi için ayrılan bölüme işaretleyiniz.

- 1) Tarihi olaylar, tüm yönleriyle ve derinlemesine araştırılmak ve öğretilmesini kolaylaştırmak için zamana, mekana ve konularına göre bölümlere ayrılır.

Aşağıdakilerden hangisi tarihin zamana göre bölümlere ayrılmasına örnek gösterilemez?

- A) Ortaçağ Avrupa Tarihi
B) Orta Asya Türk Tarihi
C) Antik Dönem Anadolu Tarihi
D) Tarihöncesi Mısır Tarihi
E) 20. Yüzyıl Siyasi Tarihi

- 2) Cilalı Taş Devri'nin başlarında iklimin düzelmeye başlamasıyla verimli topraklar çoğalmış ve insanoğlu bu toprakları ekip biçmeye başlamıştır.

Bu durumun, aşağıdaki gelişmelerden hangisine neden olduğu söylenemez?

- A) Yerleşik yaşam kültürünün başlamasına
B) Beslenme alışkanlıklarının değişmesine
C) Özel mülkiyet anlayışının ortaya çıkmasına
D) Yaşam koşullarının değişmesine
E) Çok tanrılı dinlerin yaygınlaşmasına

- 3) **Aşağıdakilerin hangisinde, I. de verilen gelişmenin II. gelişmenin ortaya çıkmasında etkili olduğu söylenemez?**

- | I. Gelişme | II. Gelişme |
|--------------------------------------|-------------------------------------|
| A) Üretim etkinliklerinin artması | Ticari faaliyetlerin yaygınlaşması |
| B) Ateşin kontrol altına alınması | Araç - gereçlerin çeşitlenmesi |
| C) Özel mülkiyet kavramının oluşması | Toplumsal sınıfların ortaya çıkması |
| D) Yerleşik hayata geçilmesi | Özel mülkiyet anlayışının gelişmesi |
| E) Yerleşim birimlerinin kurulması | Toplumsal işbölümünün azalması |

- 4) Hicri Takvim'e göre bir yıl 354 günden oluşurken, Miladi Takvim'e göre 365 gün 6 saatten oluşur.

Takvimler arasında bu zaman farkının oluşmasında,

- I. Miladi Takvim'in Hz. İsa'nın doğumunu başlangıç alması,
II. zamanın hesaplanmasında farklı ölçütlerin kullanılması,
III. dinler arası rekabetin olması

durumlarından hangilerinin etkili olduğu savunulabilir?

- A) Yalnız I B) Yalnız II C) Yalnız III
D) I ve II E) II ve III

- 5) İlkçağ'da Orta Anadolu'da kurulan Hitit Devleti, M.Ö. 1290'larda egemenlik alanını Suriye'ye kadar genişletmiş ve Mısır'la Kadeş Savaşı'nı yapmıştır.

Yalnız bu bilgiye dayanarak,

- I. Hititler, Anadolu'nun dışında da egemenlik mücadelesi vermiştir.
II. Mısır'ın yönetiminde Firavunlar etkili olmuştur.
III. Mısır ve Hitit devletleri aynı çağda, farklı topraklara egemen olmuştur.

yargılarından hangilerine ulaşılabilir?

- A) Yalnız I B) Yalnız II C) Yalnız III
D) I ve III E) II ve III

KAVRAM YAYINLARI

KAVRAM YAYINLARI

A**A****A****A****A**

- 6) İlk yazılı belgeler Mezopotamya'da ortaya çıkarılmış ve bu yazılı belgelerin M.Ö. 3500'lü yıllara ait olduğu anlaşılmıştır. Anadolu ise M.Ö. 2000'lerde Asurlu tüccarlar aracılığıyla yazı ile tanışmıştır.

Bu bilgilere göre ,

- I. Tarih devirleri her yerde aynı zamanda başlamıştır.
- II. Mezopotamya Uygarlığı, çevre uygarlıkları etkilemiştir.
- III. Mezopotamya, Anadolu'dan önce tarih devirlerine girmiştir.

yargılarından hangilerine ulaşılabilir?

- A) Yalnız I B) Yalnız II C) Yalnız III
D) I ve III E) II ve III

- 7) I. Tanrılarına hesap vermek amacıyla yıllıklar tutmaları
II. Mısır ile savaşlar yapıp, ardından Kadeş Barış Antlaşması'nı imzalamaları
III. Tarımla uğraşmaları

Hititlerin yukarıdaki özelliklerinden hangilerinin, Hitit siyasi tarihinin aydınlatılmasında tarihçilere yardımcı olduğu söylenebilir?

- A) Yalnız I B) Yalnız II C) Yalnız III
D) I ve II E) II ve III

- 8) Güney Rusya'da yapılan kazılarda İskitler döneminden kalma altın ve gümüş süs eşyaları çıkarılmıştır. Ayrıca İskitler, ölülerini en güzel elbiseleri ve mücevherleriyle gömmüşlerdir.

Buna göre, İskitlerle ilgili olarak aşağıdaki yargılardan hangisine ulaşılabilir?

- A) Ahirete inanmışlardır.
B) Tek tanrılı dinlere inanmışlardır.
C) Güçlü devletler kurmuşlardır.
D) Anadolu'yu yurt edinmişlerdir.
E) Slav ırkına mensuplardır.

- 9) Türk kavimlerini toplayıp imparatorluk halinde birleştiren ilk Hun hükümdarı Teoman'dır. Teoman'dan sonra Hun tahtına geçen Teoman'ın oğlu Mete zamanında yapılan fetihlerle Hun İmparatorluğu'nun toprakları, Hazar Denizi'nden Japon Denizi'ne kadar genişledi.

Buna göre, Hunlarla ilgili olarak aşağıdaki yargılardan hangisine ulaşamaz?

- A) Günümüze kadar ulaşan önemli mimari eserler bırakmışlardır.
B) Hanedan anlayışını benimsemişlerdir.
C) Farklı topluluklar üzerinde egemenlik kurmuşlardır.
D) Güçlü bir askeri yapılanmaya sahip olmuşlardır.
E) Orta Asya'da siyasi birliği sağlamışlardır.

- 10) Önce Hun, daha sonra Göktürk egemenliğinde yaşayan Uygurlar, Basmlı ve Karluklarla birleşerek Göktürk Devleti'ne son verip başkenti Karabagsun olan yeni bir devlet kurdular(774). Dinlerini değiştirdikten sonra savaşçı özelliklerini kaybeden Uygurlar, 840 yılında Kırgızların saldırıları sonucu siyasi güçlerini kaybederek devletsiz kaldılar. Uygurlar, günümüzde Çin Halk Cumhuriyeti'nin egemenliği altında Doğu Türkistan'da yaşamaktadır.

Buna göre, aşağıdaki yargılardan hangisine ulaşamaz?

- A) Türk devletlerinin kurulmasında ve yıkılmasında boylar etkili olmuştur.
B) Tarihte birbirinin devamı niteliğinde Türk devletleri kurulmuştur.
C) Ulusal benliklerini kaybeden Türk toplulukları bağımsızlıklarını da kaybetmiştir.
D) Türk topraklarına zamanla farklı devletler egemen olmuştur.
E) Bir Türk devleti yıkılmadan, başka bir Türk devletinin kurulması önlenmiştir.

KAVRAM YAYINLARI

KAVRAM YAYINLARI

A**A****A****A****A**

11) İslamiyet öncesi Türk devletlerinde ülke, hükümdar ailesinin ortak malı sayılmış; merkez, sağ ve sol olmak üzere bölümlere ayrılarak yönetilmiştir.

Bu bilgiye dayanarak, İslamiyet öncesi Türk devletleri ile ilgili,

- I. Ülke yönetiminde aynı anda farklı hanedanlar söz sahibi olmuştur.
- II. Ülke, hanedan mensupları arasında paylaşılmıştır.
- III. Ülkenin siyasi birliği uzun süre korunmuştur.

yargılarından hangilerine ulaşılabilir?

- A) Yalnız I B) Yalnız II C) I ve II
D) I ve III E) I, II ve III

12) İslamiyet öncesi Türk devlet ve topluluklarının savaşçı özelliklerinin gelişmiş olmasında, aşağıdakilerden hangisinin daha az etkili olduğu söylenebilir?

- A) Bağımsızlıklarına düşkün olmalarının
- B) Güçlü devletlere komşu olmalarının
- C) Farklı dinlere inanmalarının
- D) Yeni yurtlar aramalarının
- E) Maden işlemeciliği alanında uzmanlaşmalarının

13) Mekke'li putperestlerin baskısı sonucunda Müslümanlar, 622 yılında Hz. Muhammed'in önderliğinde Mekke'den Medine'ye göç etmiştir. Hz. Muhammed, Mekke'den gelen Müslümanlar ile Medinelilerle kardeş ilan etmiş; Medine Yahudileri ile Vatandaşlık Antlaşması imzalamıştır.

Bu bilgiye dayanarak, Hz. Muhammed ile ilgili,

- I. İslam Devleti'nin temellerini atmıştır.
- II. Yahudileri göçe zorlamıştır.
- III. Din ve devlet başkanlığı görevlerini yerine getirmiştir.

yorumlarından hangileri yapılabilir?

- A) Yalnız I B) Yalnız III C) I ve II
D) I ve III E) II ve III

14) Hz. Muhammed döneminde İslam ordusu gönüllü askerlerden oluşurken ileriki dönemlerde bu durum değişmiş, düzenli ve sürekli orduların kurulması zorunlu hale gelmiştir.

Bu durumun oluşmasında,

- I. devlet başkanının askeri yetkilere sahip olması,
- II. sınırların genişlemesi ve güçlü devletlerle karşılaşılması,
- III. ganimetlerin beşte birinin hazineye aktarılması

gelişmelerinden hangilerinin doğrudan etkili olduğu söylenebilir?

- A) Yalnız I B) Yalnız II C) Yalnız III
D) I ve II E) II ve III

15) Abbasi devletinde vali ve komutanların güçleri gün geçtikçe artmıştır.

Bu durum, Abbasi devletinde aşağıdakilerden hangisinin yaşanmasına yol açmıştır?

- A) Merkezi otoritenin güçlenmesine
- B) Merkezden yönetimin kolaylaşmasına
- C) Devletin parçalanmasına
- D) Devletin eyaletlere ayrılmasına
- E) Sınırların genişlemesine

16) Halife Mutasım zamanında ordu içerisinde Türk askerlerinin etkinliğinin artırılmasında,

- I. merkezi otoritenin güçlendirilmek istenmesi,
- II. etnik yapının çeşitlilik göstermesi,
- III. farklı mezheplerin ortaya çıkması

durumlarından hangilerinin etkili olduğu söylenebilir?

- A) Yalnız I B) Yalnız II C) I ve II
D) I ve III E) II ve III

17) Kavimler Göçü'nden sonra Avrupa'da feodal beyler ve kilise güçlenerek siyasi, ekonomik ve sosyal yaşama yön vermiştir.

Bu durum,

- I. Avrupa'da siyasi otorite boşluğu yaşanmıştır.
- II. Ulusal devletler çoğalmıştır.
- III. Kilisenin etkinliği artmıştır.

yargılarından hangilerine kanıt gösterilebilir?

- A) Yalnız I B) Yalnız II C) Yalnız III
D) I ve III E) I, II ve III

KAVRAM YAYINLARI

KAVRAM YAYINLARI

A

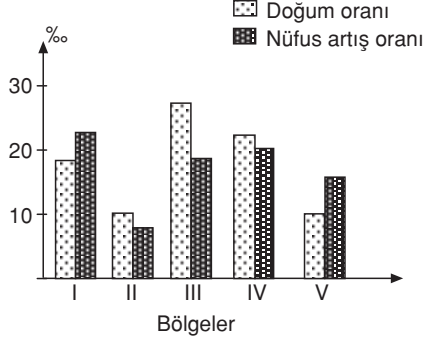
A

A

A

A

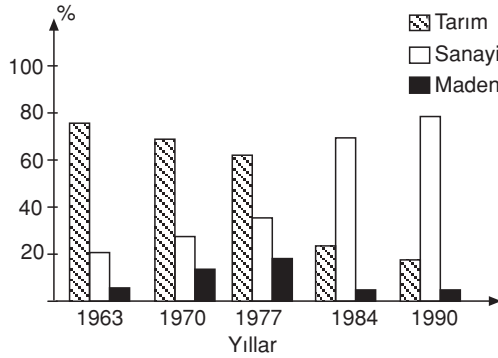
- 18) Bir bölgede nüfus artış oranı doğum oranından fazlaysa o bölge dışarıdan göç almaktadır.



Buna göre yukarıdaki grafikte doğum oranı ve nüfus artış oranı verilen bölgelerden hangileri dışarıdan göç almıştır?

- A) Yalnız I B) Yalnız III C) I ve V
D) II ve IV E) III ve V

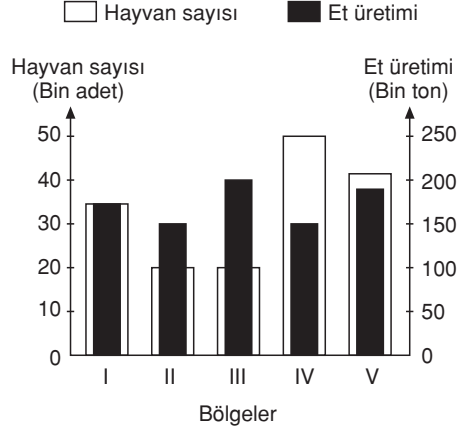
- 19) Aşağıdaki grafikte 1963 - 1990 yılları arasında Türkiye'nin dışsatımında mal gruplarının payları verilmiştir.



Grafikteki bilgilerden yararlanılarak aşağıdaki yargılardan hangisine ulaşamaz?

- A) Sanayi ürünleri dışsatımında tekstil ilk sırayı almaktadır.
B) Dışsatımda payı en düşük olan sektör madendir.
C) Tarımın dışsatımındaki payı giderek azalmıştır.
D) Maden dışsatımının payında dalgalanmalar görülmektedir.
E) Sanayinin dışsatımdaki payı sürekli artmıştır.

- 20) Aşağıdaki grafikte bir ülkenin beş farklı bölgesinde kesilen aynı tür hayvan sayıları ve et üretimleri verilmiştir.



Grafikteki bilgiler göz önüne alındığında, aşağıdaki yargılardan hangisine ulaşamaz?

- A) II. ve IV. bölgenin et üretimleri birbirine yakındır.
B) Et veriminin en az olduğu bölge IV, en çok olduğu bölge III'tür.
C) II. ve III. bölgede kesilen hayvan sayısı aynıdır.
D) Bölgelerde kesilen hayvan sayısının toplamı 150 bin adetten azdır.
E) I. bölgede elde edilen et verimi, V. bölgeden fazladır.

21)

Ülkeler	1991	1992	1993	1994
ABD	508.363	553.923	603.438	689.215
Japonya	237.289	233.265	241.652	275.268
Fransa	230.832	238.875	200.750	230.638
İngiltere	209.864	221.638	206.321	226.172
İtalya	182.750	188.456	148.308	167.694

Değerler : Milyon dolar

Yukarıdaki tabloda çeşitli ülkelerin 1990 - 1994 yılları arasında ithalat değerleri gösterilmiştir.

Bu değerlere göre aşağıdaki bilgilerden hangisi yanlıştır?

- A) Dış ticaret açığı tüm yıllarda en fazla olan ülke ABD'dir.
B) Bazı ülkelerin ithalat değerlerinde dalgalanma olmuştur.
C) İthalat değerleri en düşük olan ülke İtalya'dır.
D) İthalatı sürekli artış gösteren tek ülke ABD'dir.
E) 1994 yılında ithalat değerleri ABD'den sonra en fazla olan ülke Japonya'dır.

A**A****A****A****A**

- 22) Buharlaşma, sıcaklıkla doğru, bağıl nemle ters orantılıdır.

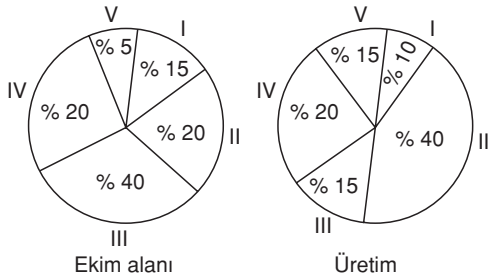
Merkez	Sıcaklık (°C)	Bağıl nem (%)
I	17	50
II	17	30
III	17	65
IV	17	40
V	17	60

Yukarıdaki tabloda sıcaklıkları aynı olan beş merkezin bağıl nem oranları verilmiştir.

Buna göre bu merkezlerden hangisinde buharlaşma en azdır?

- A) I B) II C) III D) IV E) V

- 23) Bir tarım ürününün ekim alanına oranla üretim oranı, oransal olarak, ne kadar fazla artmışsa o ürünün verimi o kadar fazladır.



Buna göre yukarıda ekim alanı ve üretim oranı verilen ürünlerin hangisinde birim alandan elde edilen verim en yüksektir?

- A) I B) II C) III D) IV E) V

- 24) Aşağıdaki tabloda beş farklı merkezin enlemleri, aynı andaki yerel saatleri, yükselti değerleri ile başlangıç meridyenine olan uzaklıkları verilmiştir.

Merkez	Enlem	Yerel saat	Yükselti (metre)	Başlangıç meridyenine uzaklık (km)
I	20° Kuzey	10.00	1200	1000
II	10° Güney	12.00	3000	2000
III	30° Güney	14.00	1000	1000
IV	10° Kuzey	10.00	1200	1500
V	60° Kuzey	08.00	500	2000

Buna göre hangi iki merkezin boylamları aynıdır, neden?

- A) II ve IV'ün, çünkü enlemleri aynıdır.
B) I ve IV'ün, çünkü yükseltileri aynıdır.
C) II ve V'in, çünkü başlangıç meridyenine uzaklıkları aynıdır.
D) I ve IV'ün, çünkü yerel saatleri aynıdır.
E) II ve III'ün, çünkü yarımküreleri aynıdır.

- 25)

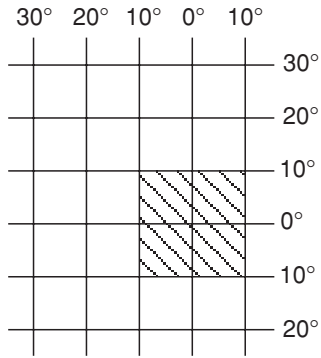
Merkez	Enlem (Kuzey)	Boylam (Doğu)
K	35°	15°
L	45°	25°

Yukarıdaki tabloda matematik konumları verilen merkezlerle ilgili aşağıdakilerden hangisi söylenemez?

- A) K'de öğle vakti daha önce yaşanır.
B) L'nin yerel saati daha ileridir.
C) L'nin Ekvator'a olan kuş uçuşu uzaklığı daha fazladır.
D) K, güneş ışınlarını yıl boyunca L'den daha büyük açılarla alır.
E) K, kuzey kutup noktasına daha uzaktır.

A A A A A

26)



Yukarıdaki şekilde enlem ve boylam dereceleri belirlenmiş olan taralı alan ile ilgili olarak aşağıdakilerden hangisi yanlıştır?

- A) İki yarımkürede de toprağı vardır.
- B) Doğusu ile batısı arasında 80 dakikalık zaman farkı vardır.
- C) Kuzeyi ile güneyi arasında 2220 km'lik kuşucumu uzaklık bulunmaktadır.
- D) Güneş ışınlarını yıl içerisinde 2 defa dik açıyla almaktadır.
- E) Kuzeybatı - kuzeydoğu uçları arasındaki uzaklık kuzeydoğu - güneydoğu uçları arasındaki uzaklıktan fazladır.

27)



Yukarıdaki haritada X noktasında yerel saat 9.00 iken, Y noktasında 13.20'dir.

Buna göre, Y noktası hangi boylam üzerindedir?

- A) 92° Doğu
- B) 87° Doğu
- C) 78° Doğu
- D) 68° Doğu
- E) 43° Doğu

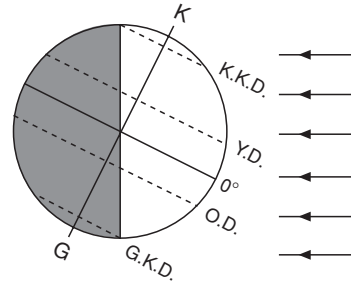
28) Aşağıdaki tabloda bazı iklim tiplerinde orman üst sınırının ortalama yükseltisi verilmiştir.

İklim tipi	Orman üst sınırı (metre)
Ekvatorial	5000
Akdeniz	3500
Okyanusal	2800
Tundra	500

Orman üst sınırının bu şekilde dağılmasının temel nedeni aşağıdakilerden hangisidir?

- A) Enlem
- B) Nemlilik
- C) Yağış rejimi
- D) Yağış biçimi
- E) Bakı

29)



Yukarıdaki şekilde Dünya'nın Güneş'e karşı bir gündeki konumu verilmiştir.

Buna göre, Dünya, Güneş karşısında bu konumu aldığı anda Türkiye'de aşağıdakilerden hangisi gerçekleşmez?

- A) Cisimlerin gölge boyu öğle vakti yıl içindeki en uzun konumundadır.
- B) Gece-gündüz süreleri arasındaki fark en fazladır.
- C) Antalya'dan Sinop'a doğru gidildikçe gündüz süresi uzar.
- D) Yaz mevsimi başlangıcıdır.
- E) Güneş ışınlarının tutulma oranı azdır.

KAVRAM YAYINLARI

KAVRAM YAYINLARI

A**A****A****A****A**

- 30) – Ekvator dışındaki yerlerde Güneş'in doğuş ve batış saatlerinin yıl içinde değişmesi
– Kuzey Yarımküre'de geceler uzunken, Güney Yarımküre'de gündüzlerin uzun olması
Yukarıda verilen olaylar aşağıdakilerden hangisinin bir sonucudur?

- A) Dünya yörüngesinin elips şeklinde olmasının
B) Dünya'nın şeklinin geoid olmasının
C) Dünya'nın kendi eksenini çevresinde dönmesinin
D) Yer eksenini ile yörünge düzlemi arasında 66°33"lık açı olmasının
E) Kara ve deniz dağılışının yarımkürelerde farklı olmasının

- 31) İsa'dan önce 700 yıllarında Yunan mitlerinin çoğu Homeros ve Heseidos tarafından yazıya geçirildi. Mitlerin yazıya geçirilmesiyle görüldü ki Tanrılar aslında fazlasıyla insan gibiydiler; güvenilir ve bencil. Bu durum mitlerin belki de yalnızca insan uyurması olduğu fikrini doğururken, zihinlere de şüphe tohumunu ekmışti. Bu şüpheyi sorgulayanlar ise filozoflardı.

Buna göre, felsefi düşüncenin başlangıç nedeni aşağıdakilerden hangisidir?

- A) Sosyo-kültürel gelişim
B) Var olana eleştirel yaklaşım
C) Özgür düşünce ortamı
D) Tek Tanrılı dinlere geçiş
E) Eğitim seviyesinin artması

- 32) Ortaçağ boyunca felsefe bağımsızlığını yitirerek, dinsel inançların temellendirilmesi görevini yüklenmiştir. Modern çağla birlikte yeniden ilk çıkış noktasındaki anlamına geri dönerek, insan aklının bir ürünü olmuştur.

Buna göre aşağıdaki yargılardan hangisine ulaşılır?

- A) Felsefe ve din birbirine bağımlıdır.
B) Din ve felsefe; evreni, dünyayı, insanı ve toplumu açıklar.
C) Felsefe eleştireldir, din eleştirel değildir.
D) Metafiziksel sorunlar hem felsefenin hem de dinin kapsamı içine girer.
E) Felsefe, değişen toplumsal koşullar çerçevesinde özüne geri dönmüştür.

- 33) Felsefenin bir zamanlar bilimlerle bir bütün olduğu, onları da içerdiği zamanla bilimlerin felsefeden koparak özerklik kazandığı doğrudur. Burada dikkat edilmesi gereken nokta, bir bilim özerkleşince hemen aynı zamanda koşut bir felsefi disiplinin de ortaya çıkmasıdır. Eski Yunan'da tartışılmayan "teknoloji, zihin" gibi konular bugün felsefenin konusu içerisinde. Bu nedenle ne felsefenin işi ne de işlevi azalmıştır.

Bu parçada felsefeye yönelik değerlendirmelerden hangisi eleştirilmektedir?

- A) Alanı ve önemi gün geçtikçe azalıyor.
B) Olaylara bakış açısı bilimlerden farklıdır.
C) Konusuna metafiziği de dahil ediyor.
D) Günlük yaşamda doğrudan işe yaramıyor.
E) Bir disiplin olarak sayılmıyor.

- 34) Felsefe yapmak uçsuz bucaksız bir ovaya taş atmaya benzer. Atılan her taş diğerine belki değerli, belki de değmeyecektir. Taşların bir kısmı ufalanıp küçülecek, bir kısmı ise sonsuza dek varlığını sürdürecektir. Bazı taşları bulup çıkartmak, bazılarını ise unutmak gerekecektir. Taş atanlar çoğaldıkça ova bir dağa dönüşecek, bu dağın zirvesini merak edenler ise, taş atmaya devam edeceklerdir.

Bu parçada felsefi bilginin hangi özelliği vurgulanmaktadır?

- A) Sistemli ve düzenli olması
B) Birleştirici ve bütünleştirici olması
C) Tarihinden soyutlanamaması
D) Eleştirel olması
E) Yığılma göstermesi

- 35) Bilimsel çalışmaların ürünü olan yargılar akla ve mantığa uygun olmalı, kendi içlerinde çelişmelidir.

Yukarıdaki açıklama, bilimin hangi özelliğini vurgulamaktadır?

- A) Nesnellik
B) Tutarlılık
C) Birikimsellik
D) Genellik
E) Eleştirelilik

KAVRAM YAYINLARI

KAVRAM YAYINLARI

A**A****A****A****A**

36) Timon, her savı ya da savları haklı gösterecek dayanakların kanıtlanmamış öncülleri olduğuna dikkat çeker. Eğer bu kanıtlanmamış öncüllerin doğru olduğunu başka savlarla kanıtlamaya çalışırsak, o zaman onların da kanıtlanmamış öncüllere dayandırılması gerekir ve bu sonsuza dek böyle gider.

Paragraftan yola çıkarak Timon'un aşağıdaki görüşlerden hangisini savunduğu söylenebilir?

- A) Bilgi doğuştan gelir.
- B) Doğru bilgi deney ve gözlemlerle elde edilir.
- C) Doğru bilgiye ancak deney ile ulaşılır.
- D) Doğru bilgiye ulaşılamaz.
- E) Yararlı olmayan sav doğru olamaz.

37) Rudolf Carnap'a göre felsefenin ödevi bilimsel önermelerin mantıksal söz dizimini ortaya koymaktır. Bilimsel bilgi olma iddiası taşıyan bir cümle olguları dil ile ifade ettiği, olgulara ilişkin öznenin bağımsız bilgileri sunduğu sürece anlamlıdır. Olgusal olarak doğruluk değeri (doğru veya yanlış olduğu) belirlenemeyen bir önermenin anlamlılığından da bahsedilemez.

Buna göre aşağıdakilerden hangisi anlamlı bir önermeye örnek gösterilemez?

- A) Bazı varsayımlar doğrulanabilir.
- B) Yaşayan her insan canlıdır.
- C) Ruh ölümsüzdür.
- D) Karga bir kuştur.
- E) Hiçbir hayvan konuşamaz.

38) Ortaçağ Avrupası'nda, özellikle 5. ve 10. yüzyıllar arasında skolastik düşüncenin baskısıyla can çekişen bilim, İslam kültür çevresinde en parlak dönemlerini yaşamış, rönesansla birlikte Avrupa'da yeniden doğan bilim, Osmanlı'da duraklama ve gerileme döneminde katı bir engellenmenin boyunduruğuna girmiştir.

Bu parçada bilim ile ilgili aşağıdakilerden hangisi vurgulanmaktadır?

- A) Özgür düşünme ortamında geliştiği
- B) Birikimli bir ilerlemenin ürünü olduğu
- C) Dünya mirasının bir parçası olduğu
- D) Olaylar arasındaki kesin bağların ifadesi olduğu
- E) Kendine özgü yasaları ve kuramları olduğu

39) A. Comte, duyularımızın bize gösterdiği olgulardan yola çıkarak felsefe yapmayı ve bunların arkasında bulunduğu varsayılan gizemli kavram ve etkenlerle ilgilenilmemesini savunmuştur.

Düşünür bu tutumuyla aşağıdakilerden hangisini felsefenin dışında tutmayı amaçlamıştır?

- A) Deneysel verileri
- B) Eleştirel yaklaşımı
- C) Metafizik yaklaşımı
- D) Olgulara dayalı temellendirmeyi
- E) Fiziki gerçekliği

40) Taşın sert olması bir varoluşun, taşın sert olduğu bilgisi ise, insanın bu nesneye yönelttiği algısal süreçlerinin ürünüdür. Bilen bir özne olan insanın, bilgisine erişmek için duyumsadığı bilinenin elde ettiği görüntüler, kavramlar, yargılar ve çıkarımlar süreci, aynı zamanda bilginin de oluşum sürecidir. Bu sürecin biricik değeri olan bilgi ise, bilen ile bilinen arasındaki ilişkide ortaya çıkan ürünün adıdır.

Bu parçada bir ürün olarak tanımlanan bilginin elde edilmesindeki ilk ve vazgeçilmez koşul aşağıdakilerden hangisidir?

- A) Çıkarımların objektif temellere dayanması
- B) Koşulların denetim altında tutulması
- C) Duyu verilerinin soyutlanabilmesi
- D) Bilen öznenin bilinen nesneyi duyumsaması
- E) Bilinen nesnenin ürün olma değeri taşıması

KAVRAM YAYINLARI

KAVRAM YAYINLARI